



Compétence	1	2	3	4
Tracer des cercles à l'aide du compas (évaluation à partir de l'atelier),				
Résoudre des problèmes de durées				
Être capable de trouver les masses nécessaires:				

Prénom :

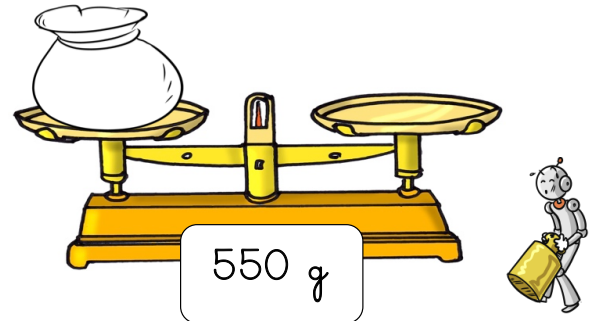
.....

Exercice n°1 : Entoure les masses nécessaires pour chaque balance.


Indique les masses nécessaires :




Indique les masses nécessaires :



Indique les masses nécessaires :



Indique les masses nécessaires :



Exercice n°2 : Réponds à chaque problème de durée. Tu peux t'aider de ton ardoise si besoin.

1

Un train part de ville A à 12 H00 .  
Il arrive à ville B à 15 H00.  
Combien de temps a-t-il mis ?



Phrase réponse :

---

---

2

Un train part de ville A à 9 H00 .  
Il arrive à ville B à 17 H00.  
Combien de temps a-t-il mis ?



Phrase réponse :

---

---

3

Un train part de ville A à 7H 00 .  
Il arrive à ville B à 9H30.  
Combien de temps a-t-il mis ?



Phrase réponse :

---

---

4

Un train part de ville A à 6H 00 .  
Il arrive à ville B à 15H30.  
Combien de temps a-t-il mis ?



Phrase réponse :

---

---