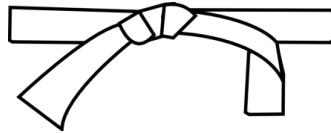


CEINTURE BLANCHE



ENTRAINEMENTS

Je calcule des additions en ligne.

Calcule cette addition sans la poser.

$$7 + 8 =$$



Je connais les compléments à 10.

Les compléments à 10

$$1 + \underline{\quad\quad} = 10$$

7

5

9



Je calcule des additions posées sans retenue.

| | | |
|---|-----|-----|
| | d | u |
| | 3 | 3 |
| + | 2 | 1 |
| | ... | ... |



Fichier d'exercices - Bout de Gomme



Pages :

- | | |
|----------------------------|----------------------------|
| <input type="checkbox"/> 1 | <input type="checkbox"/> 6 |
| <input type="checkbox"/> 2 | <input type="checkbox"/> 7 |
| <input type="checkbox"/> 3 | <input type="checkbox"/> 8 |
| <input type="checkbox"/> 4 | <input type="checkbox"/> 9 |
| <input type="checkbox"/> 5 | |

Test de validation

Date de passage :

___ / ___ / ___




VALIDATION

Ce que je pense de mon travail :

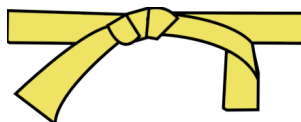


Signature des parents

Ceinture validée le : ___ / ___ / ___



CEINTURE JAUNE



ENTRAINEMENTS

Je calcule des soustractions en ligne.

Calcule cette soustraction sans la poser.

$$8 - 7 =$$



Je connais les compléments à la dizaine supérieure.

Les compléments à la dizaine supérieure

$$15 + \underline{\quad\quad} = 20$$

7

5

9



Je calcule des additions posées avec retenue.

Entraînements :

- ☐ 1
- ☐ 2
- ☐ 3
- ☐ 4
- ☐ 5
- ☐ 6

Fichier d'exercices - Bout de Gomme



Pages :

- ☐ 10 ☐ 15
- ☐ 11
- ☐ 12
- ☐ 13
- ☐ 14

Test de validation

Date de passage :

___ / ___ / ___




VALIDATION

Ce que je pense de mon travail :

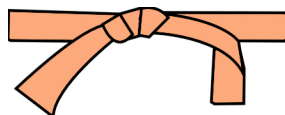


Signature des parents

Ceinture validée le : ___ / ___ / ___



CEINTURE ORANGE



ENTRAINEMENTS

Je pose et calcule des additions sans retenue.

Pose et calcule.

$$45 + 19 =$$

$$459 + 171 =$$

$$81 + 9 + 132 =$$



Je connais les compléments à 100.

Les compléments à 100

$$10 + \underline{\quad\quad} = 100$$

40

90

60



Je calcule des soustractions posées sans retenue.

| | d | u |
|---|-----|-----|
| | 3 | 3 |
| - | 2 | 1 |
| | ... | ... |



Fichier d'exercices - Bout de Gomme



Pages :

- ☐ 16 ☐ 21
- ☐ 17 ☐ 22
- ☐ 18
- ☐ 19
- ☐ 20

Test de validation

Date de passage :

___ / ___ / ___




VALIDATION

Ce que je pense de mon travail :

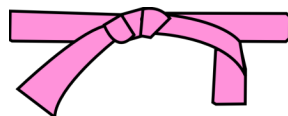


Ceinture validée le : ___ / ___ / ___

Signature des parents



CEINTURE ROSE



ENTRAINEMENTS

Je calcule des soustractions posées avec retenue.

| | | |
|---|-----|-----|
| | d | u |
| | 5 | 3 |
| - | 2 | 8 |
| | ... | ... |



Je connais les compléments à la centaine supérieure.

| | | |
|---|----|----|
| Les compléments à la centaine supérieure. | | |
| ✂ 85 + _____ = 100 | | |
| 15 | 25 | 35 |



Je pose et calcule des additions avec retenue.

Entraînements :

- ☐ 1
- ☐ 2
- ☐ 3
- ☐ 4
- ☐ 5
- ☐ 6

Fichier d'exercices - Bout de Gomme



- Pages : ☐ 29
- ☐ 23 ☐ 41
 - ☐ 24 ☐ 51
 - ☐ 25 ☐ 52
 - ☐ 26 ☐ 53
 - ☐ 27 ☐ 54
 - ☐ 28

Test de validation

Date de passage :

____ / ____ / ____




VALIDATION

Ce que je pense de mon travail :

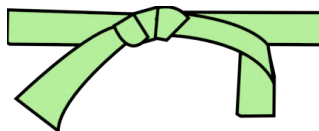


Signature des parents

Ceinture validée le : ____ / ____ / ____



CEINTURE VERTE



ENTRAINEMENTS

Je calcule des multiplications par 10 en ligne.

Calcule cette multiplication sans la poser.

$$7 \times 10 =$$



Je pose et calcule des soustractions sans retenue.

Pose et calcule.

$$49 - 15 =$$

$$459 - 121 =$$

$$428 - 12 =$$



Je calcule des multiplications posées à un chiffre.

| | | |
|---|------|------|
| | d | u |
| | 1 | 3 |
| x | | 5 |
| | | |



Fichier d'exercices - Bout de Gomme



Pages : ☐ 42

☐ 30 ☐ 43

☐ 31

☐ 32

☐ 33

☐ 34

Test de validation

Date de passage :

___ / ___ / ___




VALIDATION

Ce que je pense de mon travail :

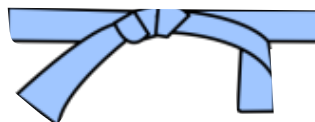


Ceinture validée le : ___ / ___ / ___

Signature des parents



CEINTURE BLEUE



ENTRAINEMENTS

Je calcule des multiplications en ligne.

Calcule cette multiplication sans la poser.

$$19 \times 5 =$$



Je pose et calcule des soustractions avec retenue.

Entraînements :

- ☐ 1
- ☐ 2
- ☐ 3
- ☐ 4
- ☐ 5
- ☐ 6

Je calcule des multiplications posées à deux chiffres.

| | | | |
|---|--|---|---|
| | | 3 | 1 |
| x | | 2 | 5 |
| | | | |
| | | | |
| | | | |



Fichier d'exercices - Bout de Gomme



Pages :

- ☐ 35 ☐ 55
- ☐ 36 ☐ 56
- ☐ 57
- ☐ 58

Test de validation

Date de passage :

___ / ___ / ___




VALIDATION

Ce que je pense de mon travail :

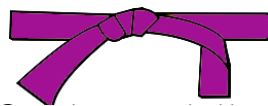


Ceinture validée le : ___ / ___ / ___

Signature des parents



CEINTURE VIOLETTE



ENTRAINEMENTS

Je calcule des opérations avec parenthèses.

Calcule cette opération sans la poser.

$$(4 \times 8) + 6 =$$



Je connais les compléments à 1000.

Les compléments à 1000



$$100 + \underline{\hspace{2cm}} = 1000$$

400

900

600



Je pose et calcule des multiplications à 1 chiffre.

Pose et calcule.

$$27 \times 3 =$$

$$312 \times 5 =$$

$$46 \times 7 =$$



Fichier d'exercices - Bout de Gomme



Pages : ☐ 59

☐ 37 ☐ 60

☐ 38 ☐ 61

☐ 45 ☐ 62

☐ 46 ☐ 63

☐ 47

Test de validation

Date de passage :

___ / ___ / ___




VALIDATION

Ce que je pense de mon travail :



Signature des parents

Ceinture validée le : ___ / ___ / ___

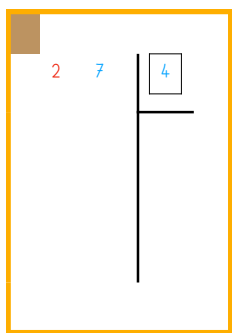


CEINTURE MARRON

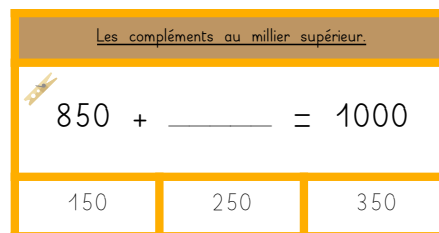


ENTRAINEMENTS

Je calcule des divisions posées à 1 chiffre.



Je connais les compléments au millier supérieur.



Je pose et calcule des multiplications à 2 chiffres.

Entraînements :

- ☐ 1
- ☐ 2
- ☐ 3
- ☐ 4
- ☐ 5
- ☐ 6



Fichier d'exercices - Bout de Gomme



Pages : ☐ 50
☐ 39 ☐ 64
☐ 40 ☐ 65
☐ 44
☐ 48
☐ 49

Test de validation

Date de passage :

____ / ____ / ____



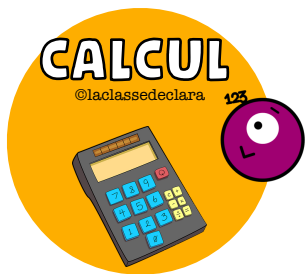
VALIDATION

Ce que je pense de mon travail :



Ceinture validée le : ____ / ____ / ____

Signature des parents



CEINTURE NOIRE



ENTRAINEMENTS

Je calcule des divisions posées à 1 chiffre.

Entraînements :

- ☐ 1
- ☐ 2
- ☐ 3
- ☐ 4
- ☐ 5
- ☐ 6



Fichier d'exercices - Bout de Gomme



Pages :

- ☐ 66
- ☐ 67
- ☐ 68

Test de validation

Date de passage :

____ / ____ / ____



VALIDATION

Ce que je pense de mon travail :



Signature des parents

Ceinture validée le : ____ / ____ / ____