

ÉVALUATION



Ceinture blanche

Compétence	NA	PA	A
Dénombrer une quantité et l'associer à une écriture chiffrée.			
Connaître la suite numérique de 1 à 10.			
Associer différentes représentations à un même nombre (de 1 à 10).			

Prénom :

.....



Exercice n°1 : Colorie le nombre de renard demandé.

5

7

4

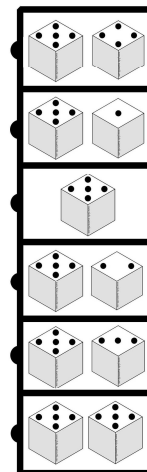
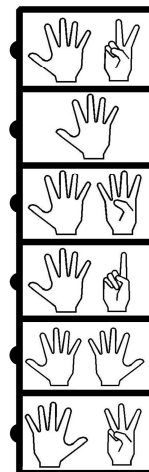
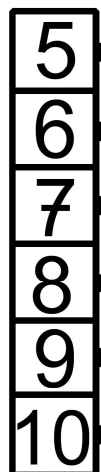
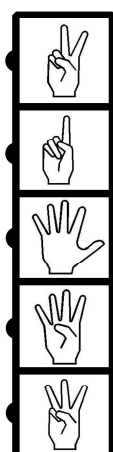
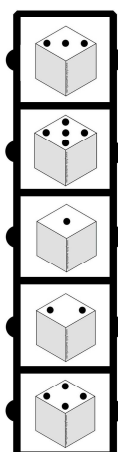


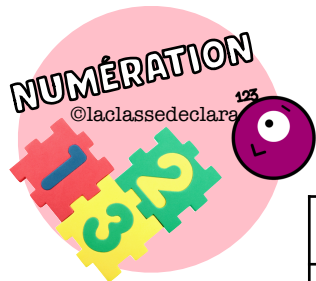
Exercice n°2 : Complète les suites numériques.

1	2	3		5		7	2	3			6		8
3	4		6	7		9	4	5		7	8		



Exercice n°3 : Relie chaque nombre à sa bonne représentation.





ÉVALUATION



Prénom :

.....

Compétence	NA	PA	A
Connaître le sens des symboles < ; >			
Comparer des nombres entre 1 et 10 en utilisant les symboles < et >			
Ranger dans l'ordre croissant des nombres compris entre 1 et 29.			
Ranger dans l'ordre décroissant des nombres compris entre 1 et 29.			



Exercice n°1 : Colorie le plus grand nombre.

2

4

6

2

8

9



Exercice n°2 : Complète avec : < ; = ou >

3 7

4 2

8 3

8 10

6 8

9 9



Exercice n°3 : Range dans l'ordre croissant les nombres suivants :

5 - 12 - 18 - 3 - 7 : < < < <

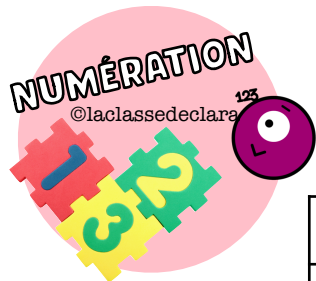
17 - 19 - 20 - 8 - 29 : < < < <



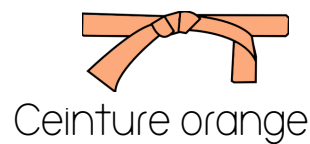
Exercice n°4 : Range dans l'ordre décroissant les nombres suivants :

13 - 8 - 16 - 20 - 7 : < < < <

15 - 27 - 13 - 8 - 21 : < < < <



ÉVALUATION



Prénom :

.....

Compétence	NA	PA	A
Connaître l'écriture en chiffre des nombres de 1 à 49.			
Ranger des nombres inférieurs à 50 dans l'ordre croissant.			
Connaître la suite numérique jusqu'à 49.			
Dénombrer en faisant des paquets de 10 (total inférieur à 40)			



Exercice n°1 : Dictée de nombres



Exercice n°2 : Écris les nombres du plus petit au plus grand.

37 - 29 - 20 - 24

15 - 32 - 45 - 26

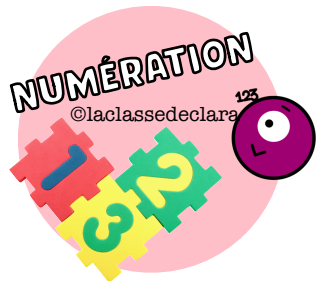
_____ < _____ < _____ < _____

_____ < _____ < _____ < _____

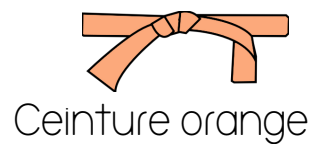


Exercice n°3 : Complète les cases grisées.

0	1	2	3		5	6	7	8	9
10		12	13	14	15		17	18	19
20	21		23	24	25	26	27		29
	31	32	33	34		36	37	38	39
40	41	42		44	45	46		48	



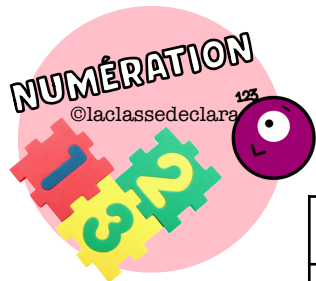
ÉVALUATION



Exercice n°4 : Compte en faisant des paquets de 10.

35

15



ÉVALUATION



Prénom :

.....

Compétence	NA	PA	A
Connaître l'écriture en chiffre des nombres de 1 à 69.			
Comparer des nombres compris entre 1 et 69.			
Connaître la suite numérique jusqu'à 69.			



Exercice n°1 : Dictée de nombres

--	--	--	--	--	--



Exercice n°2 : Complète avec $>$ ou $=$ ou $<$..

17 32

9 19

46 21

66 57

55 62

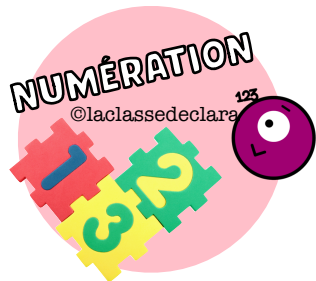
60 50

69 38

42 26

34 34

18 44

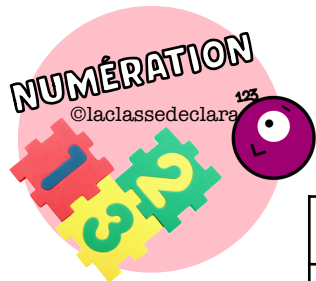


ÉVALUATION

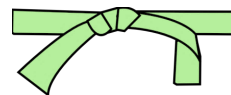


Exercice n°3 : Complète les cases grisées.

0	1		3	4	5	6	7	8	9
10	11	12	13	14	15		17	18	19
20		22	23	24	25	26		28	29
30	31	32			35	36	37	38	39
	41	42	43	44	45	46	47	48	
50	51		53	54	55	56	57		59
60		62	63	64		66	67	68	69



ÉVALUATION



Ceinture verte

Prénom :

.....

Compétence	NA	PA	A
Connaître l'écriture en chiffre des nombres de 1 à 79.			
Ranger des nombres inférieurs à 79 dans l'ordre croissant et décroissant.			
Ecrire les nombres en lettres de 1 à 10.			
Connaître la suite numérique jusqu'à 79.			



Exercice n°1 : Dictée de nombres

--	--	--	--	--	--



Exercice n°2 : Range les nombres.

79 59 15 41 38

____ < ____ < ____ < ____ < ____

57 32 76 69 27

____ > ____ > ____ > ____ > ____



Exercice n°3 : Écris en lettres les nombres suivants.

2: _____

7: _____

3: _____

8: _____

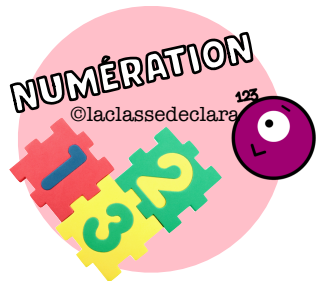
4: _____

9: _____

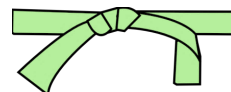
5: _____

10: _____

6: _____



ÉVALUATION

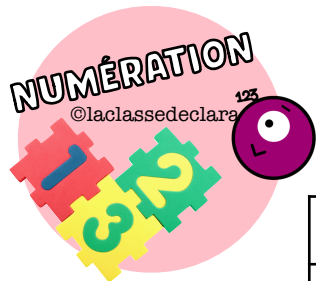


Ceinture verte

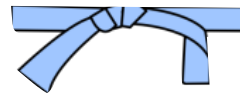


Exercice n°3 : Complète les cases grisées.

0	1	2	3	4	5		7	8	9
10	11		13	14	15	16	17		19
	21	22	23		25	26		28	29
30		32	33	34		36	37	38	39
40	41		43	44	45		47	48	49
50	51	52			55	56	57	58	59
	61	62	63	64	65		67		69
70	71		73		75	76	77	78	



ÉVALUATION






Ceinture bleue

Prénom :

.....

Compétence	NA	PA	A
Connaître les différentes représentations des nombres jusqu'à 79.			
Savoir écrire en lettres les dizaines (jusqu'à cinquante).			
Repérer un nombre sur une droite graduée.			

Exercice n°1 : Colorie la bonne réponse.



Exercice n°2 : Écris en lettres les nombres suivants.

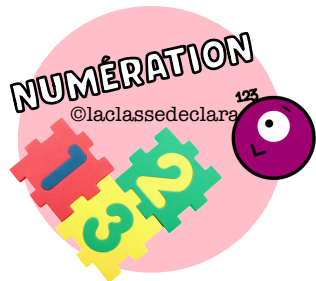
10 : _____

20 : _____

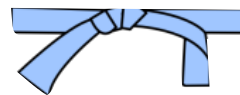
30 (en) : _____

40 (an) : _____

50 (an) : _____



ÉVALUATION



Ceinture bleue



Exercice n° 3 : Complète le nombre manquant.

10 ... 12 13 14 15 16 17 18 19 20



10 11 12 13 14 15 17 18 19 20

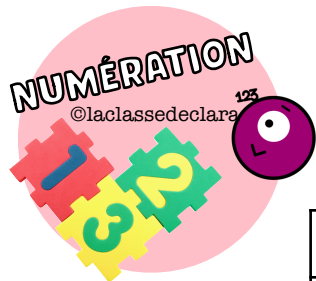


20 21 22 23 ... 25 26 27 28 29 30



20 21 22 23 24 25 26 27 28 ... 30





ÉVALUATION



Prénom :

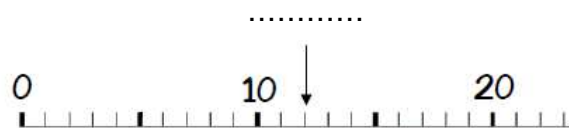
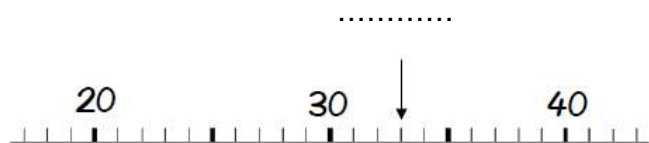
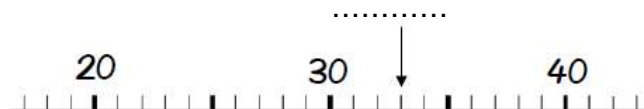
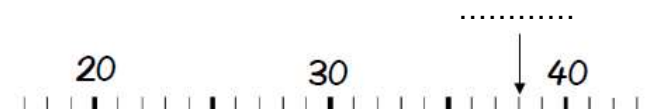
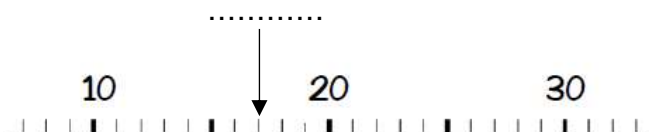
Compétence	NA	PA	A
Connaître l'écriture en chiffres des nombres de 60 à 99.			
Se repérer sur une bande numérique.			
Ranger des nombres inférieurs à 99 dans l'ordre croissant et décroissant.			



Exercice n°1 : Dictée de nombres



Exercice n°2 : Ecris le nombre indiqué par la flèche.



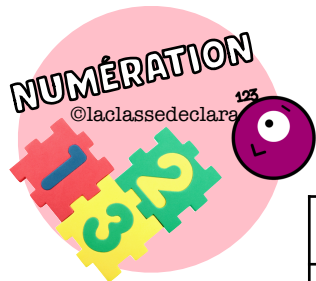
Exercice n°3 : Range les nombres.

79 88 25 91 58

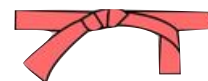
____ < ____ < ____ < ____ < ____

27 92 56 99 17

____ > ____ > ____ > ____ > ____



ÉVALUATION



Ceinture rouge

Prénom :

.....

Compétence	NA	PA	A
Connaître l'écriture en chiffres des nombres de 0 à 100.			
Connaître les différentes représentations des nombres jusqu'à 99.			
Connaître la suite numérique jusqu'à 99.			



Exercice n°1 : Dictée de nombres

Exercice n°2 : Colorie les bonnes réponses.

Dix huit

Quatre vingt un

8 + 1

8 dizaines + 1 unité

1 d 8 u

20+20+ 20+20

Huit + un

81 unités

70 +11

Neuf cinq

Quatre vingt quinze

10+10+10+10+10+9

95 dizaines

9dizaines 5 unités

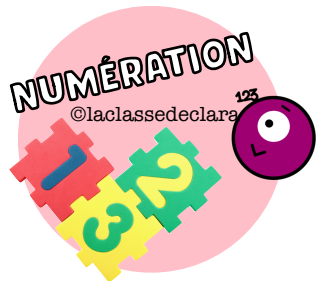
9+ 5

80 + 15

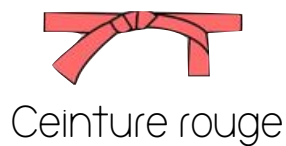
neuf + cinq

20+20+ 20+20 +10 + 5

5 + 90



ÉVALUATION



Exercice n°3 : Complète les cases grisées.

0	1		3	4	5	6		8	9
10	11	12	13			16	17	18	19
	21	22	23	24	25		27	28	29
30	31		33	34		36	37	38	39
40		42	43	44	45	46		48	49
50	51		53		55	56	57	58	59
60	61	62	63	64	65			68	69
70		72	73	74	75	76	77	78	
	81	82	83	84		86	87		89
90	91			94	95	96	97	98	