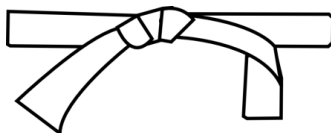




# CEINTURE BLANCHE



## ENTRAINEMENTS

Je révise la leçon.



Leçons :

☐ n°64


☐ n°65

☐ n°68

Je mesure des segments.



Je m'entraîne avec un camarade.



Je m'entraîne à l'écrit.

**Ceinture blanche** **N° 1**

Complète avec l'unité qui convient :

1. Le mur de la classe peut mesurer 3 ... de hauteur.
2. Une pièce de monnaie a une épaisseur de 2 ...
3. Du nord au sud, la France mesure environ 1000...

- |                            |                            |                            |                             |
|----------------------------|----------------------------|----------------------------|-----------------------------|
| <input type="checkbox"/> 1 | <input type="checkbox"/> 4 | <input type="checkbox"/> 7 | <input type="checkbox"/> 10 |
| <input type="checkbox"/> 2 | <input type="checkbox"/> 5 | <input type="checkbox"/> 8 | <input type="checkbox"/> 11 |
| <input type="checkbox"/> 3 | <input type="checkbox"/> 6 | <input type="checkbox"/> 9 | <input type="checkbox"/> 12 |

Test de validation

Date de passage :

\_\_\_ / \_\_\_ / \_\_\_



## VALIDATION

Ce que je pense de mon travail :

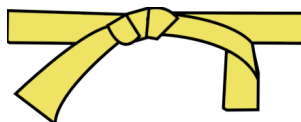


Signature des parents

Ceinture validée le : \_\_\_ / \_\_\_ / \_\_\_



# CEINTURE JAUNE



## ENTRAINEMENTS

Je révise la leçon.



Leçon :  
☐ n°63

Je calcule avec des longueurs.

35 cm - 98 mm

Je m'entraîne à l'écrit.

Ceinture jaune

N° 13

Voici la taille de quatre enfants, quel est le plus petit ?

Ernest mesure 1 m, Fleur mesure 950 mm, Gudule mesure 89 cm et Honoré mesure 1100 mm.

- ☐ 13  
☐ 14  
☐ 15

- ☐ 16  
☐ 17  
☐ 18

Test de validation

Date de passage :

\_\_\_\_ / \_\_\_\_ / \_\_\_\_



## VALIDATION

Ce que je pense de mon travail :

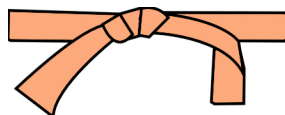


Signature des parents

Ceinture validée le : \_\_\_\_ / \_\_\_\_ / \_\_\_\_



# CEINTURE ORANGE



## ENTRAINEMENTS

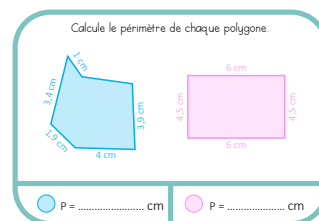
Je révise la leçon.



Leçons :

- ☐ n°69
- ☐ n°70
- ☐ n°72

Je calcule le périmètre d'une figure.



Je sais convertir des masses.

Relie les mesures de masse qui sont égales. Ⓢ

- |          |   |            |
|----------|---|------------|
| 1 267 mg | • | 8,73 g     |
| 554,1 kg | • | 0,1267 dag |
| 873 cg   | • | 0,01 kg    |
| 100 dg   | • | 5,541 q    |



Je m'entraîne à l'écrit.

Ceinture orange

N° 19

Ma chambre mesure 4 m sur 3m.  
Quel est son périmètre ?

- |                             |                             |
|-----------------------------|-----------------------------|
| <input type="checkbox"/> 19 | <input type="checkbox"/> 22 |
| <input type="checkbox"/> 20 | <input type="checkbox"/> 23 |
| <input type="checkbox"/> 21 | <input type="checkbox"/> 24 |

Test de validation

Date de passage :

\_\_\_ / \_\_\_ / \_\_\_



## VALIDATION

Ce que je pense de mon travail :

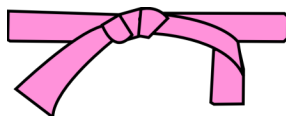


Signature des parents

Ceinture validée le : \_\_\_ / \_\_\_ / \_\_\_



# CEINTURE ROSE



## ENTRAINEMENTS

Je révisé la leçon.



Leçons :

- ☐ n°65
- ☐ n°69
- ☐ n°71

Je m'entraîne avec un camarade.



Je m'entraîne à l'écrit.

Ceinture rose	N° 25
J'ai trois morceaux de corde. L'un mesure 50 dm, l'autre 400 cm et le dernier mesure 3 m.	
Quel est le plus long ?	

- |                             |                             |                             |                             |
|-----------------------------|-----------------------------|-----------------------------|-----------------------------|
| <input type="checkbox"/> 25 | <input type="checkbox"/> 28 | <input type="checkbox"/> 31 | <input type="checkbox"/> 34 |
| <input type="checkbox"/> 26 | <input type="checkbox"/> 29 | <input type="checkbox"/> 32 | <input type="checkbox"/> 35 |
| <input type="checkbox"/> 27 | <input type="checkbox"/> 30 | <input type="checkbox"/> 33 |                             |

Test de validation

Date de passage :

\_\_\_\_ / \_\_\_\_ / \_\_\_\_



## VALIDATION

Ce que je pense de mon travail :



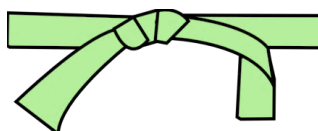
Signature des parents

Ceinture validée le : \_\_\_\_ / \_\_\_\_ / \_\_\_\_





# CEINTURE VERTE



## ENTRAINEMENTS

Je révise la leçon.

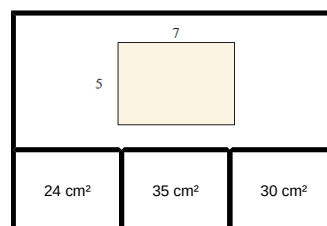


Leçons :

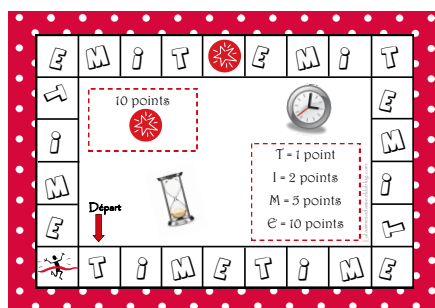
☐ n°62

☐ n°66

Je calcule l'aire d'une figure.



Je m'entraîne avec un camarade.



Je m'entraîne à l'écrit.

**Ceinture verte** **N° 37**

Ma chambre mesure 4 m sur 3 m.  
Quelle est sa surface (son aire) ?

☐ 37

☐ 38

☐ 39

☐ 40

☐ 41

☐ 42

☐ 43

☐ 44

☐ 45

☐ 46

☐ 47

☐ 48

Test de validation

Date de passage :

\_\_\_\_ / \_\_\_\_ / \_\_\_\_



## VALIDATION

Ce que je pense de mon travail :

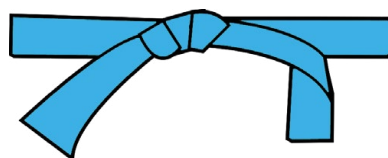


Signature des parents

Ceinture validée le : \_\_\_\_ / \_\_\_\_ / \_\_\_\_



# CEINTURE BLEUE



## ENTRAINEMENTS


Je révise la leçon.



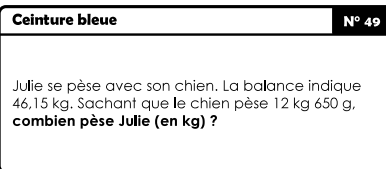
Leçons :

- ☐ n°63
- ☐ n°65
- ☐ n°67
- ☐ n°69
- ☐ n°71

Je m'entraîne avec un camarade.



Je m'entraîne à l'écrit.



- |                             |                             |                             |
|-----------------------------|-----------------------------|-----------------------------|
| <input type="checkbox"/> 49 | <input type="checkbox"/> 53 | <input type="checkbox"/> 57 |
| <input type="checkbox"/> 50 | <input type="checkbox"/> 54 | <input type="checkbox"/> 58 |
| <input type="checkbox"/> 51 | <input type="checkbox"/> 55 | <input type="checkbox"/> 59 |
| <input type="checkbox"/> 52 | <input type="checkbox"/> 56 | <input type="checkbox"/> 60 |

Test de validation

Date de passage :

\_\_\_\_ / \_\_\_\_ / \_\_\_\_



## VALIDATION

Ce que je pense de mon travail :

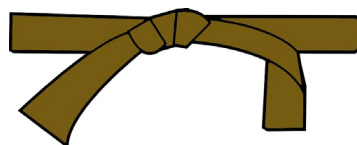


Signature des parents

Ceinture validée le : \_\_\_\_ / \_\_\_\_ / \_\_\_\_



# CEINTURE MARRON



## ENTRAINEMENTS

Je m'entraîne avec un camarade.

Calcule

Convertis

cherche

construis

Calcule

construis

cherche

cherche

Calcule

Convertis

construis

Calcule

Convertis

cherche

cherche

Calcule

Calcule

construis

Convertis

cherche

construis

Je m'entraîne avec un camarade.

Lire l'heure

Ecrire l'heure

Convertir des durées

Résoudre des problèmes

Résoudre des problèmes

Ecrire l'heure

Lire l'heure

Résoudre des problèmes

Convertir des durées

Lire l'heure

Ecrire l'heure

Résoudre des problèmes

Convertir des durées

Lire l'heure

Résoudre des problèmes

Convertir des durées

Lire l'heure

Ecrire l'heure

Résoudre des problèmes

Convertir des durées

Lire l'heure

Je m'entraîne à l'écrit.

**Ceinture marron** N° 61

Au jeu du saute-mouton, Julie est la plus forte. À chaque saut, elle avance de 90 cm. Au final elle a parcouru 18 m sans s'arrêter. **Au-dessus de combien d'élèves est-elle passée ?**

☐ 61  
☐ 62  
☐ 63

☐ 64  
☐ 65  
☐ 66

Test de validation

Date de passage :  
 \_\_\_\_ / \_\_\_\_ / \_\_\_\_

VALIDATION

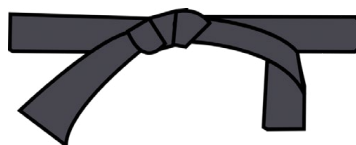
Ce que je pense de mon travail :

Ceinture validée le : \_\_\_\_ / \_\_\_\_ / \_\_\_\_

Signature des parents



# CEINTURE NOIRE



## ENTRAINEMENTS

Je révise la leçon.



Leçons :

☐ n°45

☐ n°46

Je m'entraîne avec un camarade.



Je m'entraîne à l'écrit.

**Ceinture noire** N° 73  
Pour faire un gâteau aux pommes pour 4 personnes, il faut 200 g de farine.  
Combien faut-il de farine pour faire un gros gâteau pour 6 personnes ?

☐ 67

☐ 68

☐ 69

☐ 70

☐ 71

☐ 72

☐ 73

☐ 74

☐ 75

☐ 76

☐ 77

☐ 78

Test de validation

Date de passage :

\_\_\_\_ / \_\_\_\_ / \_\_\_\_



## VALIDATION

Ce que je pense de mon travail :



Signature des parents

Ceinture validée le : \_\_\_\_ / \_\_\_\_ / \_\_\_\_